



MINISTERSTVO ŠKOLSTVÍ,  
MLÁDEŽE A TĚLOVÝCHOVY



OP Vzdělávání  
pro konkurenceschopnost

## INVESTICE DO ROZVOJE VZDĚLÁVÁNÍ

Identifikátor materiálu: EU - 4 - 59, slovní úlohy – odčítání v oboru do pěti


<b>Anotace</b>	Žák si procvičí odčítání v oboru do pěti pomocí obrázkových slovních úloh
<b>Autor</b>	Mgr. Radka Altmanová, Mgr. Jana Voráčková
<b>Jazyk</b>	Čeština
<b>Očekávaný výstup</b>	Žák dokáže řešit slovní úlohy s početní operací odčítání do pěti
<b>Speciální vzdělávací potřeby</b>	Vytvořeno pro žáky se středně těžkou mentální retardací
<b>Klíčová slova</b>	Slovní úlohy, odčítání do pěti
<b>Druh učebního materiálu</b>	Pracovní list, didaktická pomůcka
<b>Druh interaktivity</b>	Kombinace
<b>Cílová skupina</b>	Žák
<b>Stupeň a typ vzdělávání</b>	Základní vzdělávání – první stupeň ZŠ speciální
<b>Typická věková skupina</b>	7 - 10 let
<b>Datum vytvoření materiálu</b>	5. 5. 2012

1. Slovní úloha – odčítání v oboru do 5

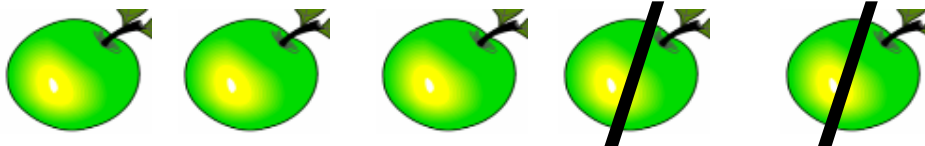
V košíku bylo 5 jablíček.

Anička 2 jablíčka snědla.


Kolik jablíček zbylo v košíku?



1. Spočítej jablíčka, přečti příklad a zapiš výsledek.



5	-	2	=	
---	---	---	---	--



2. Obrázky v rámečku vystřihni a skládej slovní úlohy dle pokynů učitele.

Zdroj použitých obrázků: galerie Smart

2. Slovní úloha – odčítání v oboru do 5

Karkulka nasbírala v lese 5 jahod.

Vlk jí 3 jahody snědl.


Kolik zbylo Karkulce jahod?



1. Spočítej jahody, přečti příklad a zapiš výsledek.



5	-	3	=	
---	---	---	---	--



2. Obrázky v rámečku vystřihni a skládej slovní úlohy dle pokynů učitele.


Zdroj použitých obrázků: galerie Smart

3. Slovní úloha – odčítání v oboru do 5

Pepík měl 5 rybiček

1 rybička Pepíkovi uplavala


Kolik zbylo Pepíkovi rybiček?



1. Spočítej rybičky, přečti příklad a zapiš výsledek.



5	-	1	=	
---	---	---	---	--



2. Obrázky v rámečku vystřihni a skládej slovní úlohy dle pokynů učitele.

Zdroj použitých obrázků: galerie Smart

#### 4. Slovní úloha – odčítání v oboru do 5

Vojta měl 5 bonbónů.

4 bonbóny rozdál kamarádům.


Kolik bonbónů Vojtovi zbylo?



1. Spočítej bonbóny, přeči příklad a zapiš výsledek.



5	-	4	=	
---	---	---	---	--



2. Obrázky v rámečku vystřihni a skládej slovní úlohy dle pokynů učitele.

Zdroj použitých obrázků: galerie Smart