



MINISTERSTVO ŠKOLSTVÍ,  
MLÁDEŽE A TĚLOVÝCHOVY



OP Vzdělávání  
pro konkurenceschopnost

## INVESTICE DO ROZVOJE VZDĚLÁVÁNÍ

Identifikátor materiálu: EU - 4 - 58, slovní úlohy – sčítání v oboru do pěti

<b>Anotace</b>	Žák si procvičí sčítání v oboru do pěti pomocí obrázkových slovních úloh
<b>Autor</b>	Mgr. Radka Altmanová, Mgr. Jana Voráčková
<b>Jazyk</b>	Čeština
<b>Očekávaný výstup</b>	Žák dokáže řešit slovní úlohy s početní operací sčítání v oboru do pěti
<b>Speciální vzdělávací potřeby</b>	Vytvořeno pro žáky se středně těžkou mentální retardací
<b>Klíčová slova</b>	Slovní úlohy, sčítání do pěti
<b>Druh učebního materiálu</b>	Pracovní list, didaktická pomůcka
<b>Druh interaktivity</b>	Kombinace
<b>Cílová skupina</b>	Žák
<b>Stupeň a typ vzdělávání</b>	Základní vzdělávání – první stupeň ZŠ speciální
<b>Typická věková skupina</b>	7 - 10 let
<b>Datum vytvoření materiálu</b>	5. 5. 2012


1. Slovní úloha – sčítání v oboru do 4

Byla 1 maminka a měla 3 malá prasátka.


Kolik bylo všech prasátek dohromady?



1. Spočítej prasátka, přečti příklad a zapiš výsledek.



1	+	3	=	
---	---	---	---	--



2. Obrázky v rámečku vystřihni a skládej slovní úlohy dle pokynů učitele.


Zdroj použitých obrázků: galerie Smart

## 2. Slovní úloha – sčítání v oboru do 3


V chaloupce bydlela máma medvědice, táta medvěd a malý méďa.

Kolik bylo všech medvědů dohromady?


1. Spočítej medvědy, přečti příklad a zapiš výsledek.



1	+	1	=	
---	---	---	---	--



2	+	1	=	
---	---	---	---	--



2. Obrázky v rámečku vystřihni a skládej slovní úlohy dle pokynů učitele.

Zdroj použitých obrázků: galerie Smart

### 3. Slovní úloha – sčítání v oboru do 5

Princ Jiřík měl 3 koně.


Od krále dostal ještě 2 koně.

Kolik koňů měl Jiřík dohromady?

1. Spočítej koně, přečti příklad a zapiš výsledek.



3	+	2	=	
---	---	---	---	--



2. Obrázky v rámečku vystřihni a skládej slovní úlohy dle pokynů učitele.

Zdroj použitých obrázků: galerie Smart

#### 4. Slovní úloha – sčítání v oboru do 5

Adélka snědla 1 hamburger.

Adam snědl 4 hamburgery.

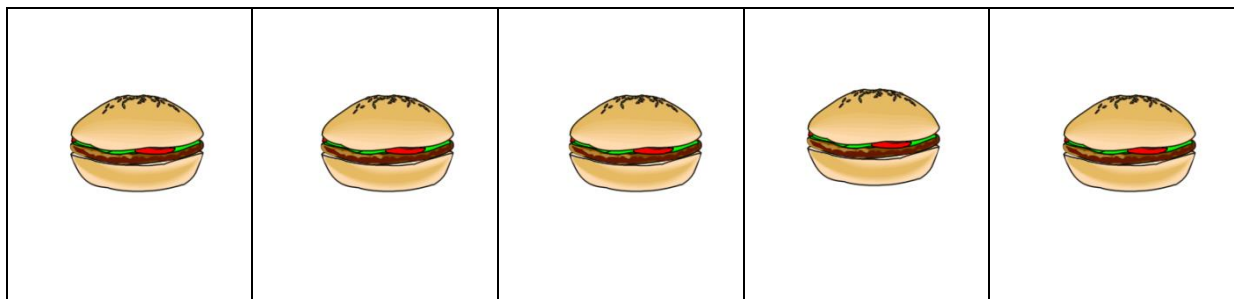
Kolik snědly děti hamburgerů dohromady?



1. Spočítej hamburgery, přečti příklad a zapiš výsledek.



1	+	4	=	
---	---	---	---	--



2. Obrázky v rámečku vystřihni a skládej slovní úlohy dle pokynů učitele.

Zdroj použitých obrázků: galerie Smart