
























INVESTICE DO ROZVOJE VZDĚLÁVÁNÍ

Identifikátor materiálu: EU - 4 - 56, počítání s mincemi 1 - 5

Anotace	Žák si procvičí mince 1, 2, 5 Kč a jejich hodnotu, dále se učí pojmy dražší - levnější
Autor	Mgr. Radka Altmanová, Mgr. Jana Voráčková
Jazyk	Čeština
Očekávaný výstup	Žák rozliší mince 1 Kč, 2 Kč, 5 Kč, zná jejich hodnotu, orientuje se v pojmech dražší a levnější
Speciální vzdělávací potřeby	Vytvořeno pro žáky se středně těžkou mentální retardací
Klíčová slova	Mince – 1 Kč, 2 Kč, 5 Kč
Druh učebního materiálu	Pracovní list
Druh interaktivity	Kombinace
Cílová skupina	Žák
Stupeň a typ vzdělávání	Základní vzdělávání – první stupeň ZŠ speciální
Typická věková skupina	7 - 10 let
Datum vytvoření materiálu	30. 4. 2012

Pracovní list č. 1



Úkol č. 1: pojmenuj mince a řekni, kolik co stojí.









Zdroj použitých obrázků: program Smart - galerie obrázků.

Pracovní list č. 2

Úkol č. 2: napiš, kolik je to korun.

Pracovní list č. 3

 $1 + 1 + 1 + 1 =$	Kč
 $1 + 1 + 1 =$	Kč
 $1 + 1 + 1 + 1 + 1 =$	Kč
 $1 + 1 =$	Kč
 $2 + 1 + 1 + 1 =$	Kč
 $1 + 2 =$	Kč
 $1 + 1 + 2 =$	Kč
 $2 + 1 =$	Kč

Úkol č. 3: vypočítej a napiš výsledek.