



MINISTERSTVO ŠKOLSTVÍ,
MLÁDEŽE A TĚLOVÝCHOVY



OP Vzdělávání
pro konkurenceschopnost

INVESTICE DO ROZVOJE VZDĚLÁVÁNÍ

Identifikátor materiálu: EU - 4 - 51, sčítání do pěti

Anotace	Žák si procvičí početní operaci sčítání v oboru do pěti
Autor	Mgr. Radka Altmanová, Mgr. Jana Voráčková
Jazyk	Čeština
Očekávaný výstup	Žák sčítá do pěti s pomocí názoru
Speciální vzdělávací potřeby	Vytvořeno pro žáky se středně těžkou mentální retardací
Klíčová slova	sčítání do pěti
Druh učebního materiálu	Pracovní list
Druh interaktivity	Pracovní list
Cílová skupina	Žák
Stupeň a typ vzdělávání	Základní vzdělávání – první stupeň ZŠ speciální
Typická věková skupina	7 - 10 let
Datum vytvoření materiálu	3. 1. 2012

Pracovní list č. 1



$$2 + 1 = \underline{\quad}$$



$$1 + 3 = \underline{\quad}$$



$$3 + 2 = \underline{\quad}$$



$$4 + 1 = \underline{\quad}$$



$$2 + 2 = \underline{\quad}$$





$$1 + 1 = \underline{\quad}$$


Úkol č. 1: a) spočítej obrázky, řekni výsledek a dopiš nebo ukaž správnou číslici.


b) přečti příklad, řekni výsledek a dopiš nebo ukaž správnou číslici.

Zdroj použitých obrázků: program Smart - galerie obrázků.


 $1 + 2 = \underline{\quad}$

 $2 + 2 = \underline{\quad}$

 $1 + 1 = \underline{\quad}$


 $3 + 2 = \underline{\quad}$


 1





Úkol č. 1: vypočítej příklady, výsledek vyhledej v obrázku a vybarvi zajíčka podle barevných čtverečků.

Obrázek byl vytvořen autorem.


 $1 + 2 = 3$

 $2 + 2 = 4$

 $1 + 1 = 2$

 $3 + 2 = 5$

 1



Obrázek byl vytvořen autorem.