



MINISTERSTVO ŠKOLSTVÍ,
MLÁDEŽE A TĚLOVÝCHOVY











OP Vzdělávání
pro konkurenceschopnost

INVESTICE DO ROZVOJE VZDĚLÁVÁNÍ

Identifikátor materiálu: EU - 4 - 47, číslice 1, 2, dokreslování prvků

| | |
|-------------------------------------|--|
| Anotace | Žák se učí přiřazovat množství prvků k číslici 1, 2 a naopak |
| Autor | Mgr. Radka Altmanová, Mgr. Jana Voráčková |
| Jazyk | Čeština |
| Očekávaný výstup | Žák spočítá prvky na obrázku, přečte číslici 1, 2 a přiřadí správnou číslici k množství prvků, žák dokreslí správný počet prvků k číslici 1, 2 |
| Speciální vzdělávací potřeby | Vytvořeno pro žáky se středně těžkou mentální retardací |
| Klíčová slova | čísllice 1, 2, přiřazování prvků |
| Druh učebního materiálu | Pracovní list |
| Druh interaktivity | Aktivita |
| Cílová skupina | Žák |
| Stupeň a typ vzdělávání | Základní vzdělávání – první stupeň ZŠ speciální |
| Typická věková skupina | 7 - 10 let |
| Datum vytvoření materiálu | 3. 1. 2012 |


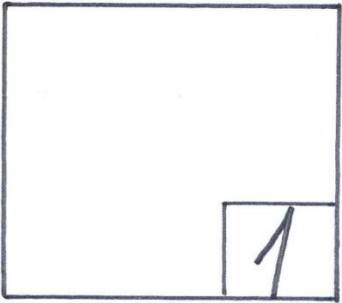
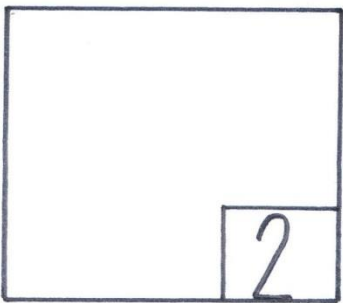

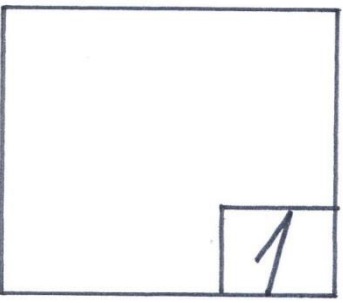
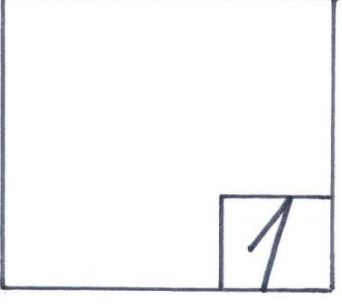
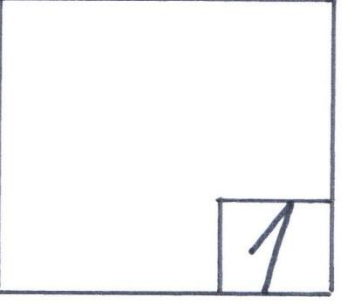


Pracovní list č. 1

| | | | |
|---|--|---|---|
| <table border="1"><tr><td style="width: 50px; height: 50px;">1</td><td style="width: 50px; height: 50px;">2</td></tr></table> | | 1 | 2 |
| 1 | 2 | | |
|  |  | | |
|  |  | | |
|  |  | | |
|  |  | | |

Úkol č. 1: spočítej obrázky a do rámečku dopiš správnou číslici, obrázky si můžeš vybarvit.

Obrázky byly vytvořeny autorem.

Pracovní list č. 2

| | |
|---|--|
|  | |
|  |  |
|  |  |
|  |  |
|  |  |

Úkol č. 2: přečti číslici a do rámečku dokresli správný počet obrázků.

Obrázky byly vytvořeny autorem.