



MINISTERSTVO ŠKOLSTVÍ,
MLÁDEŽE A TĚLOVÝCHOVY








OP Vzdělávání
pro konkurenceschopnost

INVESTICE DO ROZVOJE VZDĚLÁVÁNÍ

Identifikátor materiálu: EU - 4 - 43, číselná řada 1 - 5

Anotace	Žák se učí řadit čísla za sebou zleva doprava, číst číselnou řadu vzestupnou i sestupnou v oboru do pěti
Autor	Mgr. Radka Altmanová, Mgr. Jana Voráčková
Jazyk	Čeština
Očekávaný výstup	Žák přečte číselnou řadu 1 – 5 vzestupně i sestupně, pozná první a poslední číslo v řadě, doplní správný počet prvků pod číslo
Speciální vzdělávací potřeby	Vytvořeno pro žáky se středně těžkou mentální retardací
Klíčová slova	číselná řada do pěti, pojmy první - poslední
Druh učebního materiálu	Pracovní list
Druh interaktivity	Kombinace
Cílová skupina	Žák
Stupeň a typ vzdělávání	Základní vzdělávání – první stupeň ZŠ speciální
Typická věková skupina	7 - 10 let
Datum vytvoření materiálu	3. 1. 2012

1	2	3	4	5
				

Úkol č. 1: přečti číslice od 1 do 5, spočítej u každé číslice puntíky, číslice opiš do mřížky.




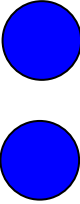

Prvky byly vytvořeny autorem v programu kreslení – automatické tvary.

1		3		5
	oo		oooo	

	2	3		5
o			oooo	

1	2		4	
		ooo		ooooo

Úkol č. 2: doplň chybějící číslice nebo dokresli kolečka pod číslice.

5	4	3	2	1
				

Úkol č. 1: přečti číslice od 5 do 1, spočítej u každé číslice puntíky, číslice opiš do mřížky.

Prvky byly vytvořeny autorem v programu kreslení – automatické tvary.


5		3		1
	oooo		oo	

	4	3		1
ooooo			oo	

5			2	
	oooo	ooo		o

Úkol č. 2: doplň chybějící číslice nebo dokresli kolečka pod číslice.

Pracovní list č. 3



Úkol č. 1: žák vystřihne vagonky s čísly, vagonky správně seřadí za mašinku.

Obrázky byly vytvořeny autorem.